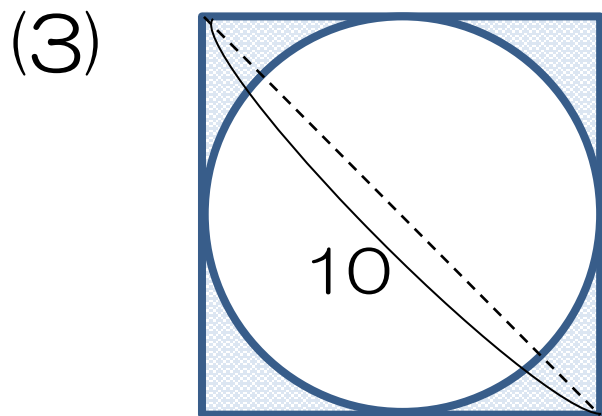
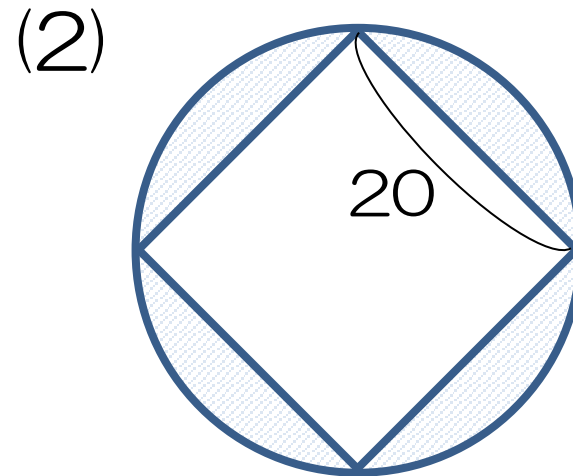
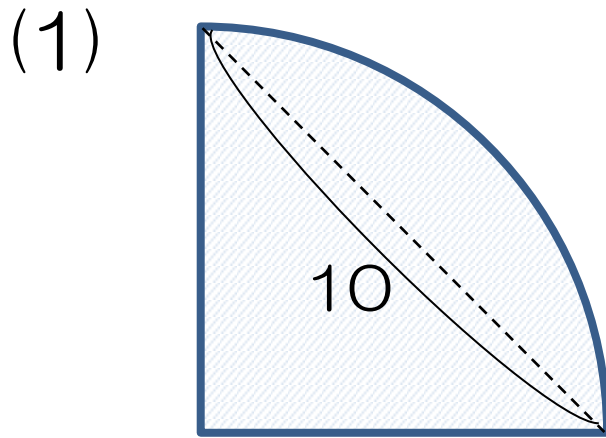


# <平面図形> ~半径×半径(基本)~

(例題) 次の斜線部分の面積を求めなさい。(単位は cm)



# <平面図形> ~半径×半径(基本)~

(例題) 次の斜線部分の面積を求めなさい。(単位は cm)

**ポイント** 半径×半径は正方形をイメージする

