



<場合の数> ~正方形の個数~

(例題) 下の図は 25 個の点を等間隔に並べたものです。
この点を頂点とする正方形は全部でいくつありますか。



<場合の数> ~正方形の個数~


(例題) 下の図は 25 個の点を等間隔に並べたものです。
この点を頂点とする正方形は全部でいくつありますか。



<場合の数> ~正方形の個数~

(例題) 下の図は 25 個の点を等間隔に並べたものです。
この点を頂点とする正方形は全部でいくつありますか。

ポイント 大きさごとに分けて数えます。



<場合の数> ~正方形の個数~

(例題) 下の図は 25 個の点を等間隔に並べたものです。
この点を頂点とする正方形は全部でいくつありますか。

ポイント 大きさごとに分けて数えます。

