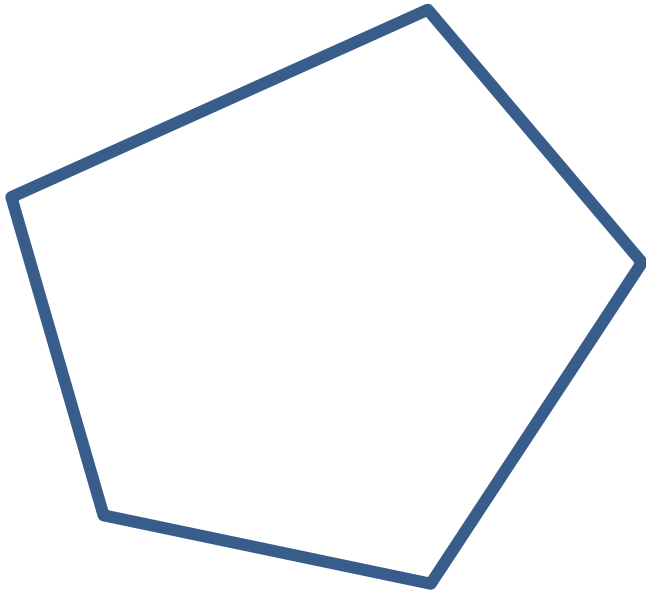


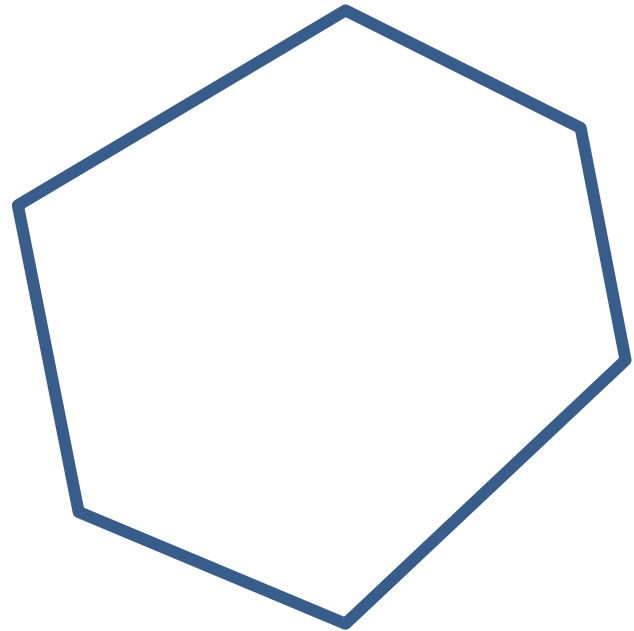
<場合の数> ~三角形に分ける方法~

(例題) 次の図形を、頂点以外では交わらない対角線によって三角形に分ける方法は何通りですか。

(1) 五角形



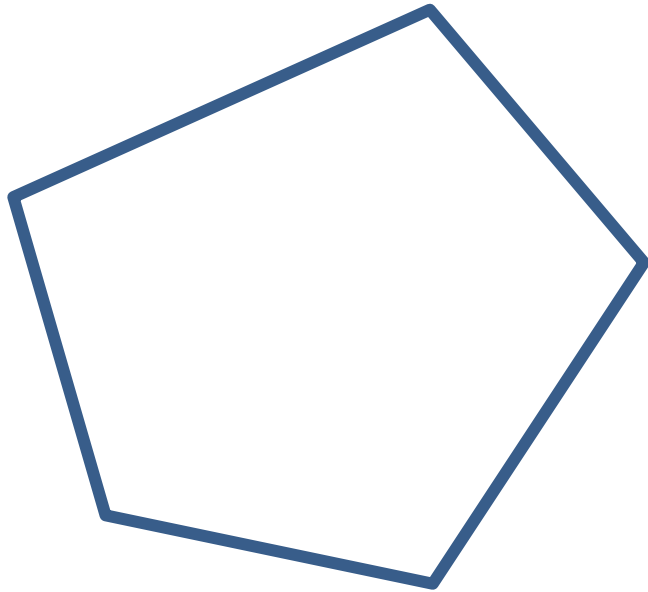
(2) 六角形



<場合の数> ~三角形に分ける方法~

(例題) 次の図形を、頂点以外では交わらない対角線によって三角形に分ける方法は何通りですか。

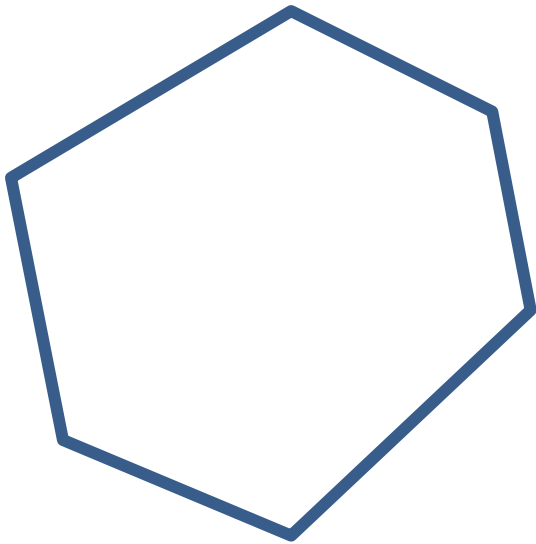
(1) 五角形



<場合の数> ~三角形に分ける方法~

(例題) 次の図形を、頂点以外では交わらない対角線によって三角形に分ける方法は何通りですか。

(2) 六角形



<場合の数> ~三角形に分ける方法~

(例題) 次の図形を、頂点以外では交わらない対角線によって三角形に分ける方法は何通りですか。

(2) 六角形

